

KENDRIYA VIDYALAYA SANGATHAN  
REGIONAL OFFICE VARANASI  
SUMMATIVE ASSESSMENT-II(2016-17)

CLASS –X

MAX. MARKS-90

SUBJECT-SOCIAL SCINCE

MAX.TIME-3HRS.

**General Instruction :-**

- 1.This Question Paper has 30 questions in all. All the questions are compulsory.
- 2.Marks are indicated against each question.
3. Questions from Serial No. 1-8 are one word answer questions of 1 Marks.
4. Questions from serial No. 09-20 are 3 marks questions. Answer of these questions should not exceed 80 words each.
5. Questions from serial No. 21-28 are 5 marks questions. Answer of these questions should not exceed 120 words each.
6. Questions from serial No. 29 is a Map question of 3 marks from History & Question No. 30 is a Map question of 3 marks from Geography. Attach both Maps with your Answer Book.

**सामान्य निर्देश:**

1. इस प्रश्न पत्र मे कुल 30 प्रश्न है । सभी प्रश्न अनिवार्य है ।
2. प्रत्येक प्रश्न के अंकउनकेसामने दिये गये है ।
3. प्रश्न क्रमांक 1 से 8 तक का प्रत्येक प्रश्न 1 अंक का अति लघु उत्तरीयप्रश्न हैं ।
4. प्रश्न क्रमांक 9 से 20 तक का प्रत्येक प्रश्न 3 अंक का हैं । इस प्रश्नो क उत्तर 80 शब्दों से अधिक नहीं होना चाहियें ।
5. प्रश्न क्रमांक 21 से 28 तक का प्रत्येक प्रश्न 5 अंक क हैं । इन प्रश्नो क उत्तर 120 शब्दो से अधिक नहि होना चाहिये ।
6. प्रश्न क्रमांक 29 इतिहस से मानचित्र सम्बंधित 3 अंक का प्रश्न हैं और प्रश्न क्रमंक 30 भुगोल से मानचित्र सम्बंधित 3 अंक का प्रश्न हैं । दोनो भरे हुए मानचित्रो को अपनी उत्तर पुस्तिका के साथ सलग्न करें ।

1. Who remarked "when France sneezes the rest of Europe catches cold". 1

"जब फ्रान्स छीकता है तो बाकी यूरोप को सर्दी जुकाम हो जाता है" यह कथन किसका है ?

OR (अथवा)

Who were called colons in Vietnam?

वियतनाम में किन लोगों को 'कोलोन' पुकारा जाता था ?

2. Why should the use of cattle cake as fuel be discouraged? 1

इन्धन के रूप में उपलो के उपयोग को क्यों हतोत्साहित करना चाहिये ?

3. Distinguish between pressure groups and political parties by stating any one point of distinction. 1

दबाव समूहों और राजनीतिक दलों में एक अन्तर स्पष्ट कीजिए ।

4. Why did India adopt multi-party system? 1

भारत ने बहुदलीय प्रणाली को क्यों अपनाया ?

5. Name any two sectional interest groups. 1

वर्ग विशेष के दो हित समूहों के नाम बताएं ।

6. Why do MNCs set up their offices and factories in those regions where they get cheap labour and other resources'? 1

बहुराष्ट्रीय कंपनियाँ अपने कार्यालय तथा कारखाने उन क्षेत्रों में क्यों स्थापित करती हैं जहाँ उन्हें श्रम एवं अन्य सन्साधन सस्ते मिलते हैं ?

7. If any damage is done to a consumer by a trader, under which consumer right one can move to consumer court to get compensation. 1

यदि व्यापारी द्वारा उपभोक्ता को कोई क्षति पहुँचाई गयी है, तो किस उपभोक्ता अधिकार के अन्तर्गत वह नुकसान की भरपाई के लिए उपभोक्ता न्यायालय जा सकता है?

8. Why is the supervision of the functioning of formal sources of loans necessary?1

ऋणों के औपचारिक स्रोतों की कार्यप्रणाली पर नजर क्यों अनिवार्य है?

9. "The decade of 1830 had brought great economic hardship in Europe." Support the statement with arguments. 3

"1830 का दशक यूरोप में भारी आर्थिक कठिनाई लाकर आया"। तर्कों सहित कथन की पुष्टि कीजिए।

OR (अथवा)

"The Ho Chi Minh Trail became advantageous to Vietnamese in the war against U.S." Support the statement with arguments.

"हो ची मिन्ह भूल भुलैया मार्ग अमेरिका के विरुद्ध युद्ध में वियतनामियों के लिये लाभ प्रद सिद्ध हुआ"। तर्कों सहित कथन की पुष्टि कीजिए।

10. What type of Flag was designed during the 'Swadeshi Movement' in Bengal? Explain its main features. 3

बंगाल में 'स्वदेशी आन्दोलन' के दौरान किस प्रकार का झन्डा तैयार किया गया था? इसकी मुख्य विशेषताओं को स्पष्ट कीजिए।

11. "The plantation workers in Assam had their own understanding of Mahatma Gandhi and the notion of Swaraj" Support the statement with arguments. 3

"असम में बागानी मजदूरों की महात्मा गान्धी के विचारों और स्वराज के बारे में अपनी अलग अवधारणा थी। तर्क देकर कथन की पुष्टि कीजिए।

12. Classify industries on the basis of sources of raw material. How are they different from each other? 3

कच्चे माल के स्रोत के आधार पर उद्योगों को वर्गीकृत कीजिए। वे एक दूसरे से कैसे भिन्न हैं ?

13. 'Consumption of energy in all forms has been rising all over the country. There is an urgent need to develop a sustainable path of energy development and energy saving'. Suggest and explain any three measures to solve this burning problem. 3

'पूरे देश में ऊर्जा के सभी प्रकारों का उपयोग बढ़ रहा है /

ऊर्जा की बचत और ऊर्जा के विकास के सतत पोषणीय मार्गों को विकसित करने की तुरन्त आवश्यकता है।'

इस ज्वलन्त समस्या के निवारण के लिये कोई तीन उपाय सुझाएँ और उन्हें स्पष्ट कीजिए।

14. Suggest any three steps to minimize the environmental degradation caused by the industrial development in India. 3

भारत में औद्योगिक विकास के कारण उत्पन्न पर्यावरणीय निम्नीकरण को कम करने के लिये कोई तीन उपाय सुझाएँ।

15. What is meant by regional party? State the conditional required to be recognized as a ' regional political party '. 1+2=3

क्षेत्रीयराजनीतिकपार्टीसेक्याअभिप्रायहै? 'क्षेत्रीयराजनीतिकपार्टी' कीमान्यताप्राप्तकरने  
केलिएआवश्यकशर्तोंकाउल्लेखकीजिये।

16. What are public interest pressure groups? Describe their functioning. 1+2=3

जनहितदावसमूहक्याहै ? उनकीकार्यप्रणालीकावर्णनकीजिए।

17. Which three challenges do you feel are being faced by political parties in India ? Give your opinion.

3

आपभारतमेराजनीतिकदलोकेसमक्षकौनसीतीनचुनौतियाअनुभवकरतेहैं ? अपनेविचारलिखिए।

18. "Deposits with the banks are beneficial to the depositors as well as to the nation". Examine the statement.

3

"बैंकोमेजमाकीगईधनराशियाजमाकर्ताकेसाथ -साथराष्ट्रकेलिएहितकरहै।" कथनकीपरखकीजिए।

19. Why had the Indian government put barriers to foreign trade and foreign investments after independence? Analyze the reasons.

3

स्वतंत्रताकेबादभारतीयसरकारनेविदेशव्यापारऔरविदेशीनिवेशपरप्रतिबन्धक्योलगादिएथे? कारणोंकाविश्लेषणकरे।

20. "Rules and regulations are required for the protection of the consumers in the market place." Justify the statement with arguments.

3

"बाजारमेउपभोक्तओकीसुरक्षाकेलिएनियमऔरविनियमोंकीआवश्यकताहोतीहै।" इसकथनकोन्यायोचितठहराइये।

21. "Napoleon had destroyed democracy in France but in the administration field he had incorporated revolutionary principles in order to make the whole system more rational and efficient." Analyze the statement with arguments.

5

फ्रान्समेनेपोलियननेप्रजातन्त्रकोनष्टकियाथा।परन्तुप्रशासनिकक्षेत्रमेउसनेक्रान्तिकारीसिधान्तोंकासमावेशकियाजिससेव्यवस्थाअधिकतर्कसगन्तऔरकुशलबनसके।" तर्कोंसहितइसकथनकाविश्लेषणकीजिए।

RO (अथवा)

"The peace negotiations in Geneva followed the division of Vietnam that set in motion a series of events that turned Vietnam into a battle field." Analyze the statement with arguments.

“जिनेवामेचलीशान्तिवार्ताओनेवियतनामकाविभाजनकियाजिसकेपरिणामस्वरूपघटीघटनाओकीश्रंखलानेवियतनामकोयुधक्षेत्रमेबदलदिया।” तर्कोसहितइसकथनकाविश्लेषणकीजिए।

22. Why did Mahatma Gandhi decide to call off the Civil Disobedience Movement? Explain. 5

महात्मागान्धीनेसविनयअव्ययआन्दोलनकोवापसलेनेकानिर्णयक्योकिया ?

स्पष्टकीजिए।

23. Explain the importance of conservation of minerals. Highlight any three measures to conserve them.

5

खनिजकेसंरक्षणकामहत्वस्पष्टकीजिए।उन्हेसंरक्षितकरनेकेलिएकिन्हीतीनउपायोकोउजागरकीजिए।

24. “Roadways still have an edge over railways in India.” Support the statement with arguments.5

भारतमेसडकपरिवहनअभीभीरेलपरिवहनकीअपेक्षाअधिकसुविधाजनकहै।” तर्कोसहितइसकथनकासमर्थनकीजिए।

25. Describe the popular struggles of Bolivia. 5

बोलिवियाकेलोकप्रियसंघर्षकावर्णनकीजिए।

26. “Political parties are a necessary condition for a democracy”. Analyze the statements with examples.

5

“लोकतन्त्रकेलिएराजनीतिकदलोकाहोनाआवश्यकशर्तहै।” इसकथनकाउदाहरणसहितविश्लेषणकीजिए।

27. How can the formal sector loans be made beneficial for poor farmers and workers ? Suggest any five measures.

5

औपचारिकक्षेत्रकेऋणों कोकिसप्रकारगरीबकिसानोऔरमजदूरोकेलियेलाभकारीबनायाजासकताहै ?

कोईपाचउपायसुझाइये।

28. Describe the impact of globalization on Indian economy with examples .5

भारतीयअर्थव्यवस्थापरवैश्वीकरणकेप्रभावोकाउदाहरणोसहितवर्णनकीजिए।

29. Three features A,B and C are marked on the given political outline map of India . Identify these features with the help of the following information and write their correct names on the lines marked in the map:3

तीनलक्षणए,

बीऔरसीभारतकेदिणगयेराजनीतिकमानचित्रमेअन्कितकिणगयेहै।इनलक्षणोकोनिम्नलिखितजानकारीकीसहायतासेपहचानिएऔरउनकेसहीनाममानचित्रमेखीचीगैइरेखाओपरलिखिए।

(A)The place where cotton mill workers organized Satyagraha .

वहस्थानजहाँसूतीकपडामिलमजदूरोंनेसत्याग्रहकियाथा।

(B) The place related to the calling off the Non Cooperation Movement.

वहस्थानजोअसहयोगआन्दोलनवापसलेनेसेसम्बंधहै।

(C) The place where the Indian National Congress Session was held.

वहस्थानजहाँभारतीयराष्ट्रीयकान्ग्रेसकाअधिवेशनहुआथा।

30.On the given political outline map of India, locate and label the following with

appropriate symbols:

3

भारतकेदिणगएराजनीतिकमानचित्रमेनिम्नलिखितकोउपयुक्तचिन्होसेदर्शाएंऔरउनकेनामलिखिए:

(A)Oil Field – Digboi

तेलक्षेत्र -डिगबोई

(B) Iron and Steel Plant – Bhilai

लोहा और इस्पात संयंत्र - भिलाई

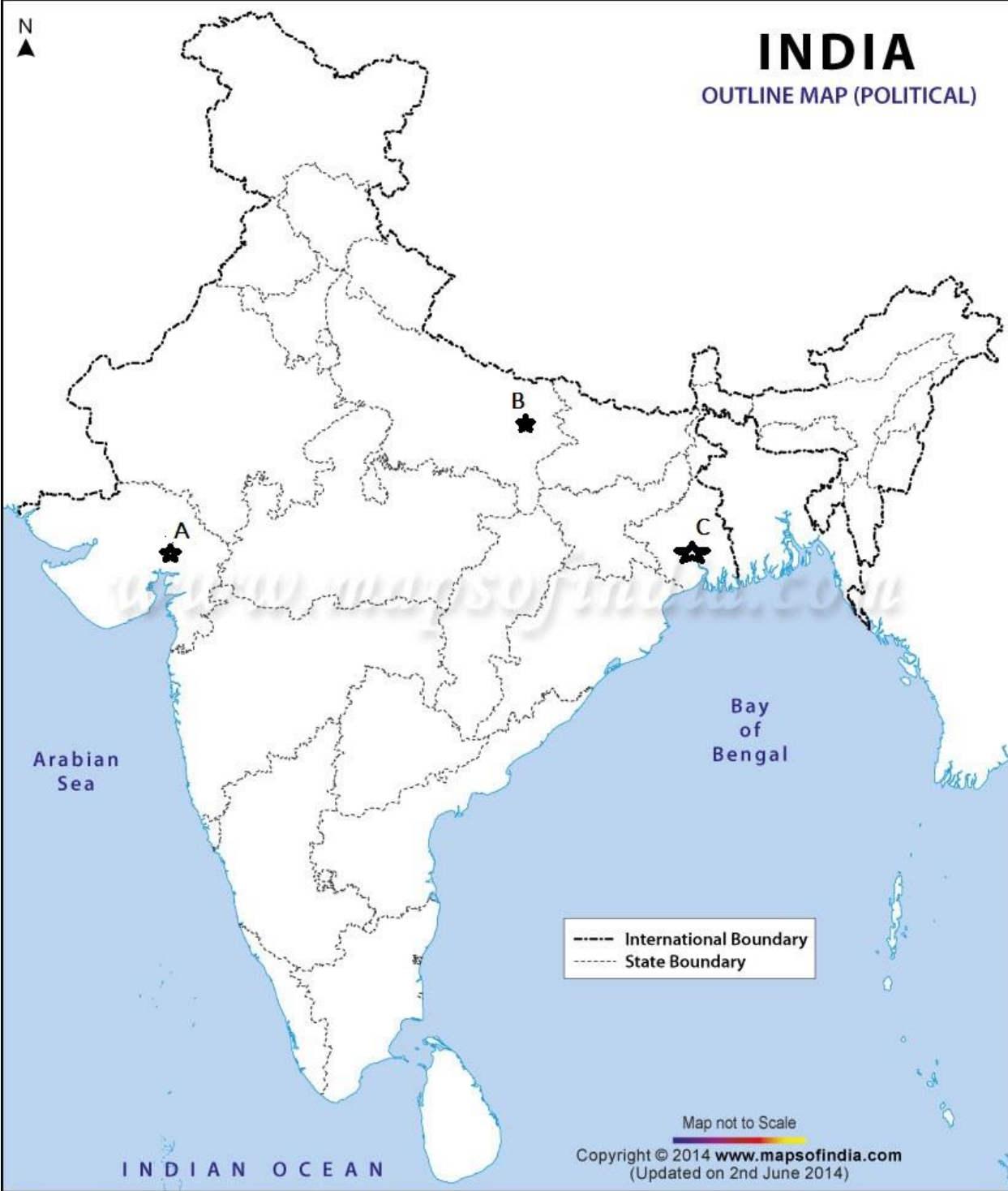
(c) Major Sea Port -Kochi

प्रमुखसमुद्रीपत्तन- कोच्चि

N

# INDIA

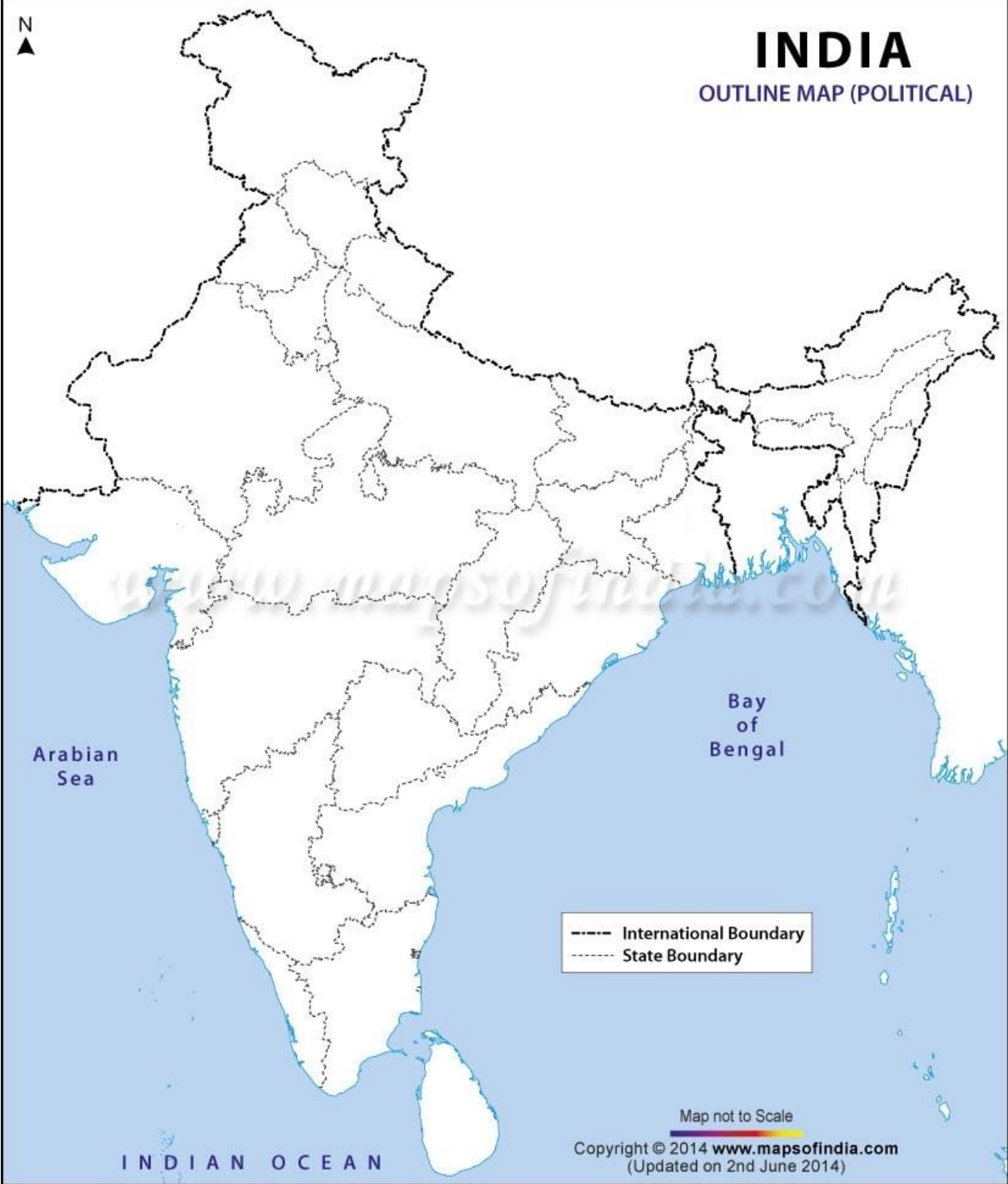
OUTLINE MAP (POLITICAL)



N

# INDIA

OUTLINE MAP (POLITICAL)



Arabic Sea

Bay of Bengal

----- International Boundary  
----- State Boundary

Map not to Scale

Copyright © 2014 [www.mapsofindia.com](http://www.mapsofindia.com)  
(Updated on 2nd June 2014)

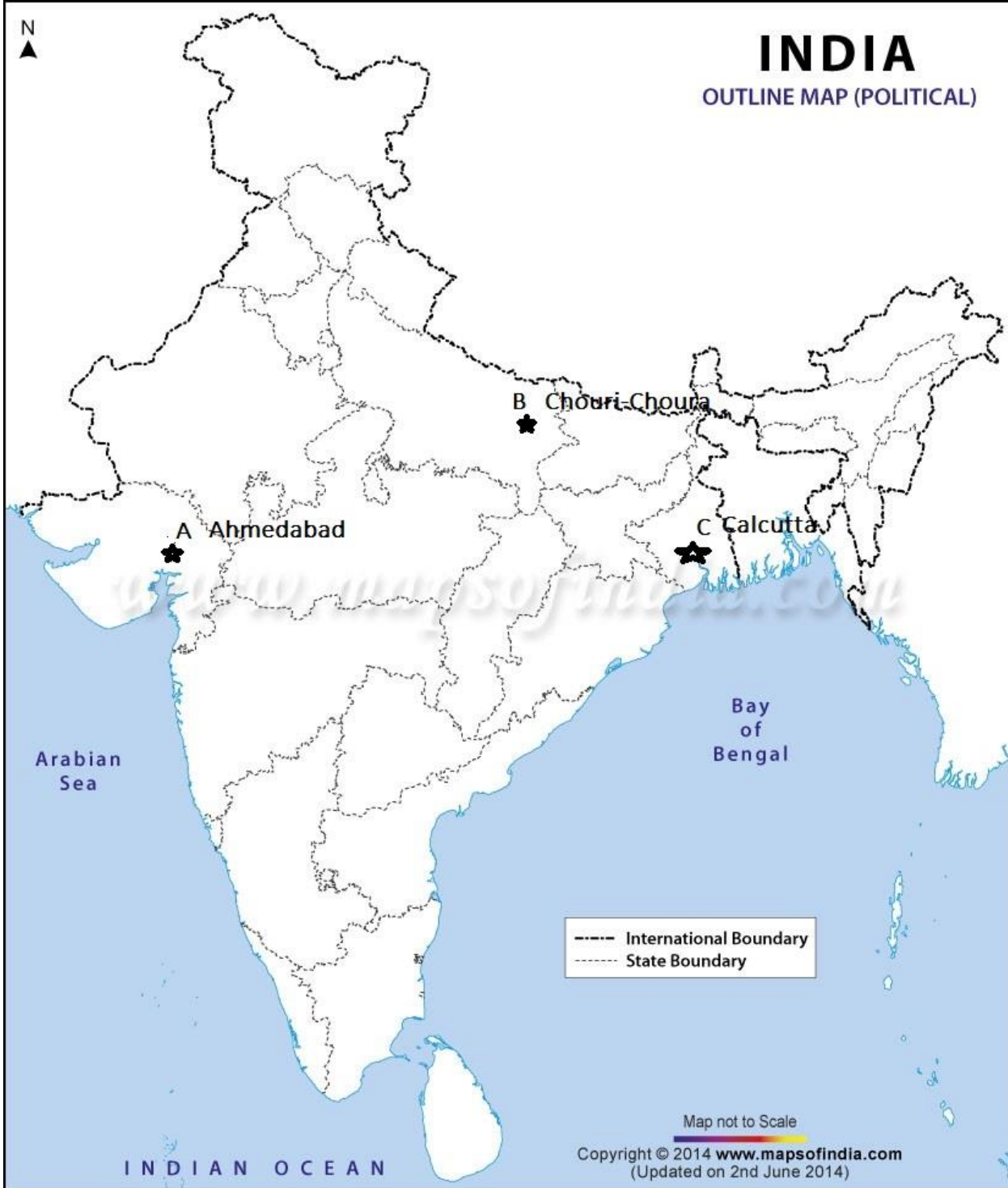
INDIAN OCEAN



N

# INDIA

OUTLINE MAP (POLITICAL)



Arabian Sea

Bay of Bengal

INDIAN OCEAN

----- International Boundary  
----- State Boundary

Map not to Scale

Copyright © 2014 [www.mapsofindia.com](http://www.mapsofindia.com)  
(Updated on 2nd June 2014)