

സമഗ്ര ശിക്ഷ, കേരളം
വാർഷിക മൂല്യനിർണ്ണയം 2021-22
സാമൂഹ്യശാസ്ത്രം

സമയം: 2 മണിക്കൂർ

ക്ലാസ് : 7


നിർദ്ദേശങ്ങൾ

1. മൂല്യനിർണ്ണയ പ്രവർത്തനങ്ങൾ ആരംഭിക്കുന്നതിനു മുമ്പ് 15 മിനിറ്റ് സമാശ്വാസ സമയമാണ്. ഈ സമയം ചോദ്യങ്ങൾ നന്നായി വായിച്ച് മനസ്സിലാക്കാനുള്ളതാണ്.
2. തന്നിട്ടുള്ള 9 പ്രവർത്തനങ്ങളിൽ ഏതെങ്കിലും 6 എണ്ണത്തിന് ഉത്തരമെഴുതിയാൽ മതി.
3. തെരഞ്ഞെടുക്കുന്ന 6 പ്രവർത്തനങ്ങളിലെ എ, ബി, സി എന്നിങ്ങനെ നൽകിയിട്ടുള്ള എല്ലാ ഉപ ചോദ്യങ്ങൾക്കും ഉത്തരം എഴുതേണ്ടതാണ്.

പ്രവർത്തനം - 1

വരുമാനം ഉണ്ടാക്കുവാൻ സഹായിക്കുന്ന തൊഴിലുകളെ സാമ്പത്തിക പ്രവർത്തനങ്ങൾ എന്നു വിളിക്കുന്നു. ഇവയെ പ്രാഥമിക മേഖല, ദ്വിതീയ മേഖല, തൃതീയ മേഖല എന്നിങ്ങനെ തിരിച്ചിരിക്കുന്നു.

കൊളാഷ് നിരീക്ഷിക്കൂ.



എ. കൊളാഷിൽ നിന്ന് കൂടുതൽ തൊഴിലുകൾ കണ്ടെത്തി പട്ടിക പൂർത്തിയാക്കുക.

പ്രാഥമിക മേഖല	ദ്വിതീയ മേഖല	തൃതീയ മേഖല
കൃഷി	b.	ബാങ്കിംഗ്
a.	കെട്ടിട നിർമ്മാണം	c.

ബി. നമ്മുടെ സമ്പദ്വ്യവസ്ഥയിൽ പ്രാഥമിക മേഖലയ്ക്കാണ് ഏറ്റവും കൂടുതൽ പ്രാധാന്യമുള്ളത്. കാരണമെന്ത്?

പ്രവർത്തനം - 2

കേരള സമൂഹത്തിൽ നിലനിന്നിരുന്ന ജാതിവ്യവസ്ഥയും പുരുഷാധിപത്യ കാഴ്ചപ്പാടും മൂലം വിവിധ വിഭാഗങ്ങളിൽപ്പെട്ട സ്ത്രീകൾ പലതരത്തിലുള്ള അസമത്വങ്ങളും വിവേചനങ്ങളും നേരിട്ടിരുന്നു.

എ. വിവേചനങ്ങൾക്കും അസമത്വങ്ങൾക്കുമെതിരെ അക്കാലത്ത് കേരളത്തിൽ സ്ത്രീകളുടെ നേതൃത്വത്തിൽ നടന്ന സമരങ്ങൾ ഏതെല്ലാം?

ബി. ഇന്ന് നമ്മുടെ സമൂഹത്തിൽ സ്ത്രീപുരുഷ സമത്വം നിലനിൽക്കുന്നുണ്ടോ? സ്ത്രീ-പുരുഷ സമത്വം ഉറപ്പാക്കുന്നതിനായി നിങ്ങളുടെ നിർദ്ദേശങ്ങൾ കൂടി ഉൾപ്പെടുത്തി ഒരു കുറിപ്പ് തയ്യാറാക്കുക.

പ്രവർത്തനം - 3

വാണിജ്യാധിപത്യം നേടിയ ഇംഗ്ലീഷ് ഈസ്റ്റ് ഇന്ത്യാ കമ്പനിയുടെ അടുത്ത ലക്ഷ്യം അധികാരം നേടുക എന്നതായിരുന്നു. ബംഗാളിലായിരുന്നു കമ്പനി ആദ്യമായി അധികാരം നേടിയത്.

എ. ബംഗാളിൽ അധികാരം നേടാൻ ഇംഗ്ലീഷ് ഈസ്റ്റ് ഇന്ത്യാ കമ്പനിയെ പ്രേരിപ്പിച്ച ഘടകങ്ങൾ എന്തെല്ലാം?

ബി. മൈസൂർ യുദ്ധങ്ങളിലൂടെ ബ്രിട്ടീഷ് ആധിപത്യത്തിലായ പ്രദേശങ്ങൾ ഏതൊക്കെ?

പ്രവർത്തനം - 4

ലീന സ്കൂളിൽ പോകുമ്പോൾ വഴിയിൽ വിശന്ന് അവശയായിരിക്കുന്ന ഒരു കുട്ടിയെ കണ്ടു. തന്റെ കൈയിലുണ്ടായിരുന്ന ബിസ്ക്കറ്റ് ലീന ആ കുട്ടിക്ക് കൊടുത്തു. വിശന്നിരിക്കുന്ന വരെ സഹായിക്കാൻ ലീന പഠിച്ചത് അവളുടെ കുടുംബത്തിൽ നിന്നാണ്.

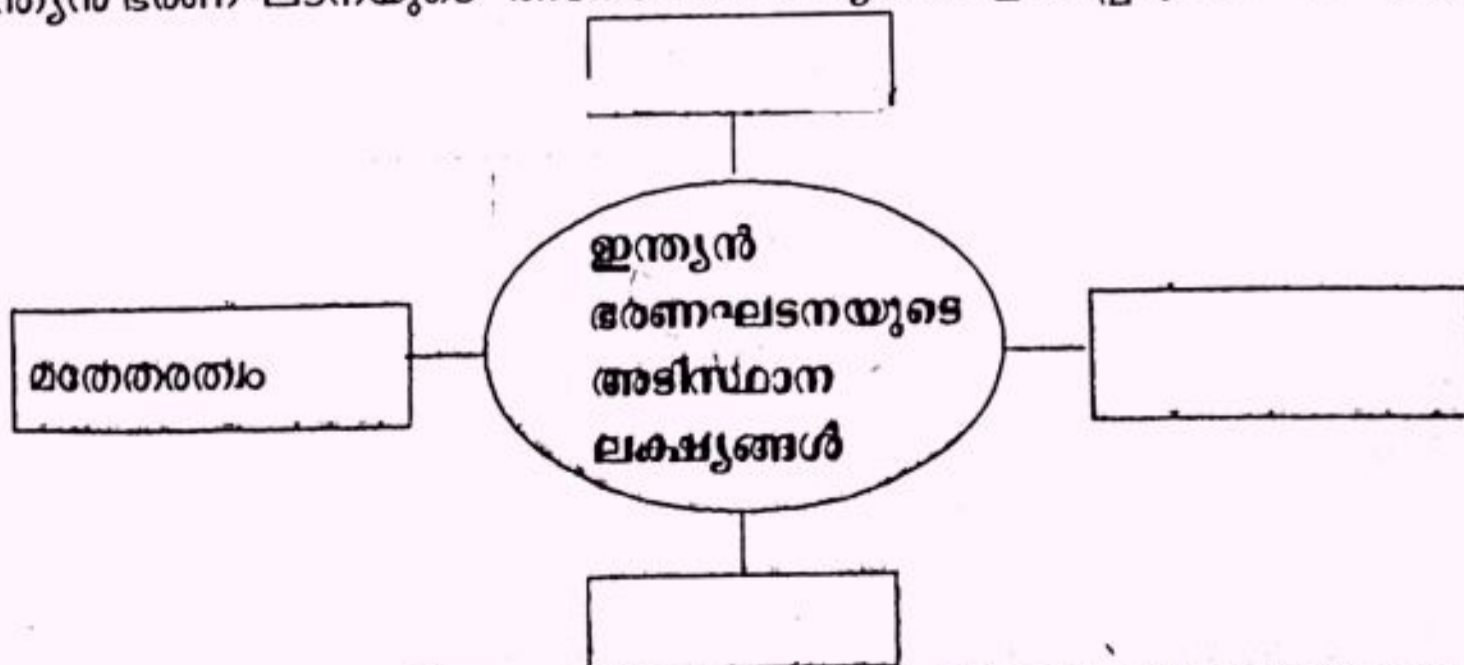
എ. ഇത്തരത്തിൽ മറ്റെന്തെല്ലാം ശീലങ്ങളാണ് നമ്മൾ കുടുംബത്തിൽ നിന്ന് സ്വായത്തമാക്കുന്നത്?

ബി. ഒരു വ്യക്തിയെ ഉത്തരവാദിത്വബോധമുള്ള സാമൂഹ്യജീവിയാക്കുന്നതിൽ കുടുംബത്തോടൊപ്പം വിദ്യാലയവും പ്രധാന പങ്കുവഹിക്കുന്നുണ്ട്. വിദ്യാലയം സാമൂഹീകരണത്തിന് സഹായിക്കുന്നത് എങ്ങനെയാണെല്ലാമാണ്? ഒരു കുറിപ്പ് തയ്യാറാക്കുക.

പ്രവർത്തനം - 5

ഇന്ത്യൻ ഭരണഘടനയുടെ സത്തയും ഭരണഘടനയുടെ താക്കോലുമാണ് ആമുഖം. ഭരണഘടനയുടെ അടിസ്ഥാന ആദർശങ്ങളും മൂല്യങ്ങളും പ്രതിപാദിക്കുന്നത് ആമുഖത്തിലാണ്.

എ. ഇന്ത്യൻ ഭരണഘടനയുടെ അടിസ്ഥാനലക്ഷ്യങ്ങൾ ഉൾപ്പെടുത്തി പദസൂര്യൻ പൂർത്തിയാക്കുക.



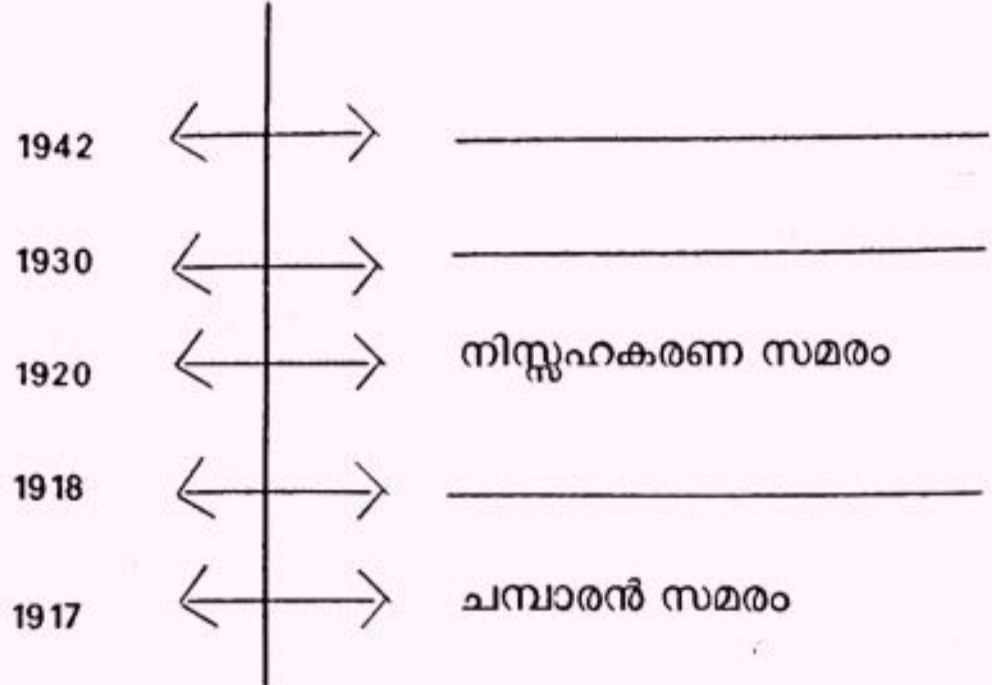
ബി. ഭരണഘടനയുടെ അടിസ്ഥാന ലക്ഷ്യങ്ങളിൽ ഒന്നായ മതേതരത്വത്തെക്കുറിച്ച് ഒരു കുറിപ്പ് തയ്യാറാക്കുക.

പ്രവർത്തനം - 6

ദേശീയപ്രസ്ഥാനത്തിലെ 1919 മുതൽ 1947 വരെയുള്ള കാലഘട്ടം ഗാന്ധിയൻ കാലഘട്ടം എന്ന് അറിയപ്പെടുന്നു.

എ. മഹാത്മാഗാന്ധി പങ്കെടുത്ത സമരങ്ങളാണ് താഴെ തന്നിരിക്കുന്നത്. അവയെ കാലഗണന അനുസരിച്ച് ക്രമീകരിക്കൂ.

ചമ്പാരൻ സമരം, ഉപ്പുസത്യഗ്രഹം, കിറ്റ് ഇന്ത്യാ സമരം, നിസ്സഹകരണ സമരം, അഹമ്മദാബാദിലെ തുണിമിൽ സമരം



ബി. മഹാത്മാഗാന്ധിയുടെ നേതൃത്വത്തിൽ നടന്ന നിസ്സഹകരണ സമരത്തിലെ ബഹിഷ്കരണ പ്രവർത്തനങ്ങളിൽ ഏതെങ്കിലും രണ്ടെണ്ണം എഴുതുക.

പ്രവർത്തനം - 7

“മനുഷ്യൻ ശ്രദ്ധാപൂർവ്വം ജൈവമണ്ഡലത്തിൽ ഇടപെട്ടില്ലെങ്കിൽ നാം ഉൾപ്പെടെയുള്ള ജീവജാലങ്ങൾക്കു വേണ്ടി പ്രകൃതി ഒരുക്കിത്തന്ന ഈ സുന്ദരമായ ലോകം നമുക്ക് വസിക്കുവാൻ കഴിയാത്ത ഒരിടമായി മാറും.”

കൊളാഷ് നിരീക്ഷിക്കൂ.



എ. കൊളാഷിൽ നമ്മുടെ ചുറ്റുപാടും മനുഷ്യർ നടത്തുന്ന അനിയന്ത്രിതമായ പരിസ്ഥിതി ചൂഷണം കണ്ടുവരൂ. “പ്രകൃതിസംരക്ഷണം നമ്മൾ ഓരോരുത്തരുടെയും കടമയാണ്”. ഇതിനെക്കുറിച്ച് സമൂഹത്തെ ബോധവൽക്കരിക്കാൻ ഒരു പോസ്റ്റർ തയ്യാറാക്കൂ.

പ്രവർത്തനം - 8

മധ്യകാല യൂറോപ്പിൽ കല, സാഹിത്യം, ശാസ്ത്രം, മതം എന്നീ രംഗങ്ങളിൽ നവോത്ഥാനം സാധിനം ചെയ്യുത്തി.

- എ. നവോത്ഥാനത്തിന്റെ പിതാവ് എന്നറിയപ്പെടുന്നത് ആരാണ്?
- ബി. നവോത്ഥാനകാലത്തെ കലാകാരന്മാർ, അവരുടെ സൃഷ്ടികൾ, മേഖലകൾ എന്നിവയാണ് പട്ടികയിൽ തന്നിരിക്കുന്നത്. അവയെ ശരിയായ രീതിയിൽ ക്രമീകരിക്കൂ.

റാഫേൽ, ഗട്ടാമെലിത്ത, ചിത്രകല, ശില്പവിദ്യ, ദോണാറ്റൊലോ, എഥൻസിലെ വിദ്യാലയം

കലാകാരന്മാർ	സൃഷ്ടികൾ	മേഖല
a _____	ഗട്ടാമെലിത്ത	b _____
റാഫേൽ	c _____	d _____

പ്രവർത്തനം - 9

ഒരു ഭൂപടത്തിന് വേണ്ട അവശ്യഘടകങ്ങളാണ് തലക്കെട്ട്, തോത്, ദിക്ക്, അക്ഷാംശീയ രേഖാംശീയ സ്ഥാനം, അംഗീകൃത നിറങ്ങളും ചിഹ്നങ്ങളും, സൂചിക എന്നിവ. ചുവടെ തന്നിരിക്കുന്ന ഭൂപടത്തിൽ അവശ്യഘടകങ്ങൾ തിരിച്ചറിഞ്ഞ് തന്നിരിക്കുന്ന കോളങ്ങളിൽ രേഖപ്പെടുത്തുക.

