

ക്ലാസ് - 3

സമയം: 2 മണിക്കൂർ

കുട്ടിയുടെ പേര്.....  
 വിദ്യാലയത്തിന്റെ പേര്.....  
 ഡിവിഷൻ.....  
 അധ്യാപകന്റെ ഒപ്പ്.....  
 രക്ഷിതാവിന്റെ ഒപ്പ്.....

ക്രമ നമ്പർ	പ്രവർത്തനങ്ങൾ	ലഭിച്ച ഗ്രേഡ്
1	വസ്ത്രങ്ങൾ വസ്ത്രങ്ങൾ	
2	ഭൂമിയെ അറിയാം	
3	ഭൂപടം നോക്കാം	
4	സൂര്യന്റെ യാത്ര	
5	മണ്ണിനെ അറിയാം	
6	എന്റെ കേരളം	
ഓവറോൾ ഗ്രേഡ്		

1. മൂല്യനിർണ്ണയ പ്രവർത്തനങ്ങൾ ആരംഭിക്കുന്നതിനു മുമ്പ് പതിനഞ്ചു മിനുട്ട് സമാശ്വാസ സമയമാണ്. ഈ സമയം ചോദ്യങ്ങൾ നന്നായി വായിച്ചു മനസ്സിലാക്കാ നുള്ളതാണ്.
2. തന്നിരിക്കുന്ന ആറു പ്രവർത്തനങ്ങളിൽ ഏതെങ്കിലും അഞ്ചെണ്ണത്തിന് ഉത്തരമെഴുതിയാൽ മതി.
3. തിരഞ്ഞെടുത്ത ചോദ്യങ്ങളുടെ എല്ലാ ഉപചോദ്യങ്ങൾക്കും ഉത്തരമെഴുതണം.

**പ്രവർത്തനം 1 - വസ്ത്രങ്ങൾ വസ്ത്രങ്ങൾ**


എ) വ്യത്യസ്ത സന്ദർഭങ്ങളിൽ വിവിധ ആളുകൾ ഉപയോഗിക്കുന്ന വസ്ത്രങ്ങളാണ് ചിത്രത്തിൽ കാണുന്നത്. ഇവ ഏതു നൂലുകൊണ്ട് നിർമ്മിച്ചതായിരിക്കും? നൂൽ നിർമ്മിക്കുന്നതിനാവശ്യമായ നാര് ലഭിച്ചത് എവിടെനിന്നാകും?



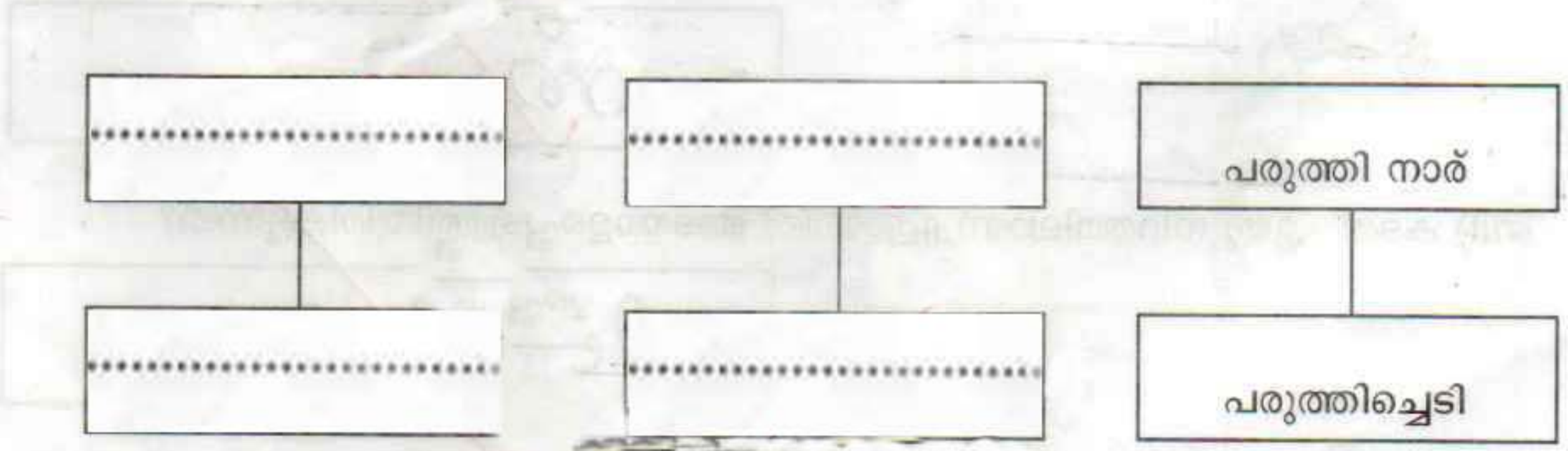
കമ്പിളിവസ്ത്രം



പട്ടുവസ്ത്രം



പരുത്തിവസ്ത്രം



ബി) വസ്തുക്കൾ നമുക്ക് എങ്ങനെയാണു് ഉപകാരപ്പെടുന്നതു്?

പ്രവർത്തനം - 2 ഭൂമിയെ അറിയാം

എ) താഴെ കൊടുത്തിരിക്കുന്നവയിൽ ഭൂമിയുടെ ആകൃതിക്ക് സമാനമായതു് ഏതു്?



A



B



C

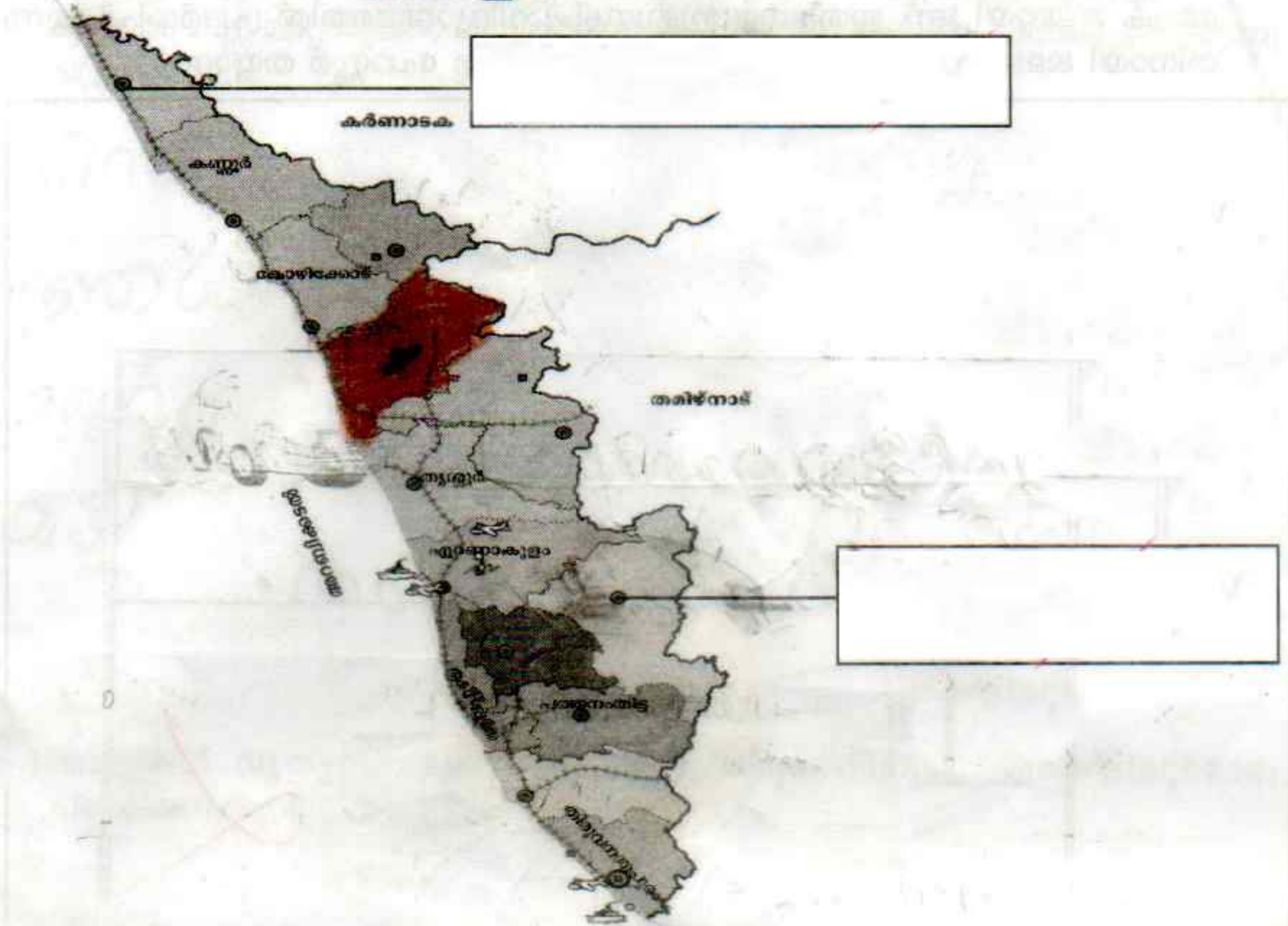
ബി) കടൽ ഏതു നിറത്തിലാണു് ഗ്ലോബിൾ അടയാളപ്പെടുത്തിയിരിക്കുന്നതു്?

സി) ഭൂമിയിൽ മൂന്നിൽ രണ്ടു ഭാഗവും ജലമാണല്ലോ. മനുഷ്യന്റെ ഇടപെടലുകൾകൊണ്ട് ജലാശയങ്ങൾ അനുദിനം മലിനമായിക്കൊണ്ടിരിക്കുകയാണ്. മാർച്ച് 22 ന് ലോക ജലദിനമാണ്. ഇതിനോടനുബന്ധിച്ച് വിദ്യാലയത്തിൽ പ്രദർശിപ്പിക്കുന്ന തിനായി ജലമലിനീകരണത്തിനെതിരെയുള്ള ഒരു പോസ്റ്റർ തയ്യാറാക്കൂ.



പ്രവർത്തനം - 3 ഭൂപടം നോക്കാം


**കേരളം**




- എ) ഭൂപടത്തിൽ അടയാളപ്പെടുത്തിയ ജില്ലകളുടെ പേരെഴുതൂ.
- ബി) ഭൂപടത്തിൽ നിങ്ങളുടെ ജില്ല കണ്ടെത്തി നിറം നൽകൂ.
- സി) നിങ്ങളുടെ ജില്ലയിലെ പ്രധാനപ്പെട്ട സ്ഥലങ്ങൾ, മറ്റു സവിശേഷതകൾ എന്നിവ ഉൾപ്പെടുത്തി ഒരു കുറിപ്പ് തയ്യാറാക്കൂ.

എന്റെ ജില്ല

പ്രവർത്തനം - 4 സുരക്ഷിതയാത്ര



എ) മുകളിൽ കൊടുത്തിരിക്കുന്ന ചിത്രത്തിൽ അപകടം ഉണ്ടാവാൻ സാധ്യതയുള്ള സന്ദർഭങ്ങൾ കണ്ടെത്തിയെഴുതൂ.



ബി) അടയാളവിളക്കിലെ നിറങ്ങളും സൂചനകളും എഴുതൂ.



നിറം	സൂചന
മഞ്ഞ	

**പ്രവർത്തനം - 5 മണ്ണിനെ അറിയാം**

എല്ലാ മണ്ണും ഒരുപോലെയാണല്ലോ?

എ) ഒരുതരം മണ്ണ് മറ്റൊരുതരം മണ്ണിൽനിന്ന് എങ്ങനെയാണല്ലോ വ്യത്യാസപ്പെട്ടിരിക്കുന്നത് എന്ന് എഴുതുക.

- 
- 
- 
- 
- 

ബി) മണ്ണുകൾ വ്യത്യസ്തമാണെന്ന് തെളിയിക്കുന്നതിനുള്ള ഏതെങ്കിലും മൊരു പരീക്ഷണക്കുറിപ്പ് തയ്യാറാക്കുക.



സാമഗ്രികൾ :

ചെയ്യുന്ന വിധം :



പ്രവർത്തനം - 6 എന്റെ കേരളം

എ) കാഴ്ചബംഗ്ലാവ് കാണാൻ പോയ അന്നു പകർത്തിയ ചിത്രങ്ങളാണ് ചുവടെ കൊടുത്തിരിക്കുന്നത്. അവയിൽ കേരളത്തിന്റെ സംസ്ഥാനമൃഗത്തിന്റെയും, സംസ്ഥാനപക്ഷിയുടെയും ചിത്രത്തിനുചുറ്റും വട്ടം വരയ്ക്കൂ.



ബി) താഴെ കൊടുത്തിരിക്കുന്ന സ്ഥലങ്ങൾ ഏതെല്ലാം ജില്ലയിലാണെന്നുകണ്ടെത്തി എഴുതൂ.

