

ക്ലാസ് - 3

സമയം: 2 മണിക്കൂർ


| കൃത്യമല്ലാത്ത പേര്..... | ക്രമ നമ്പർ | പ്രവർത്തനങ്ങൾ | ലഭിച്ച ഗ്രേഡ് |
|-----------------------------|---------------------|----------------------|---------------|
| വിദ്യാലയത്തിന്റെ പേര് | 1 | രൂപങ്ങൾ കണ്ടെത്താം | |
| ഡിവിഷൻ | 2 | പാൽ വിതരണം | |
| രക്ഷിതാവിന്റെ ഒപ്പ് | 3 | വീതിക്കാം കണ്ടെത്താം | |
| അധ്യാപകന്റെ ഒപ്പ് | 4 | കൂടുതലേത് | |
| | 5 | പായസം വയ്ക്കാം | |
| | 6 | സ്കൂൾ വാർഷികം | |
| | ഓവറോൾ ഗ്രേഡ് | | |

നിർദ്ദേശങ്ങൾ

- ◆ ആദ്യത്തെ 15 മിനിറ്റ് പ്രവർത്തനങ്ങൾ നന്നായി വായിച്ചു മനസ്സിലാക്കാനുള്ള സമയമാണ്.
- ◆ ആറു ചോദ്യങ്ങളിൽ നിന്ന് ഏതെങ്കിലും അഞ്ചെണ്ണത്തിന് ഉത്തരമെഴുതിയാൽ മതി.
- ◆ തിരഞ്ഞെടുക്കുന്ന പ്രവർത്തനങ്ങളിലെ ഉപചോദ്യങ്ങൾക്കെല്ലാം ഉത്തരമെഴുതണം.

പ്രവർത്തനം -1 രൂപങ്ങൾ കണ്ടെത്താം


ചിത്രത്തിന് നിറം നൽകൂ. ഒരേ രൂപങ്ങൾക്ക് ഒരേ നിറം.



വിട്ടുപോയ കളങ്ങൾ പൂർത്തിയാക്കുക

| രൂപങ്ങൾ | പേര് | എണ്ണം |
|---------|----------|-------|
| ○ | | |
| | ത്രികോണം | |
| □ | | 2 |

ഈ രൂപങ്ങൾ ഉപയോഗിച്ച് മറ്റൊരു ചിത്രം വരയ്ക്കുക



പ്രവർത്തനം-2 പാൽവിതരണം

മീനൂവിന്റെ ക്ലാസിലെ ജനുവരി മാസത്തെ പാൽവിതരണത്തിന്റെ കണക്ക് പട്ടികപ്പെടുത്തിയിരിക്കുന്നു.



പട്ടികയിൽ വിട്ടുപോയ കളങ്ങൾ പൂരിപ്പിക്കുക.

| ആഴ്ച | പാലിന്റെ അളവ് | |
|------|--------------------|----------------------------|
| 1 | 3000 മില്ലി ലിറ്റർ | 3 ലിറ്റർ |
| 2 | | 4 ലിറ്റർ |
| 3 | 5700 മില്ലി ലിറ്റർ | |
| 4 | | 7 ലിറ്റർ 200 മില്ലി ലിറ്റർ |

ജനുവരി മാസം വിതരണം ചെയ്ത ആകെ പാലിന്റെ അളവ് എത്ര?

പ്രവർത്തനം -3 വീതിക്കാം കണ്ടെത്താം

വീണയ്ക്ക് 6 കൂട്ടുകാരുണ്ട്. അവർ തന്റെ കൈയിലുള്ള ചാമ്പയ്ക്ക് അവർക്ക് തുല്യമായി വീതിച്ചുനൽകിയതു നോക്കൂ.



മനുവിന്റെ കൈയിൽ 12 നെല്ലിക്കയാണുള്ളത്. അത് തന്റെ 2 കൂട്ടുകാർക്ക് അവൻ തുല്യമായി വീതിച്ചു നൽകി. ഓരോരുത്തർക്കും എത്ര നെല്ലിക്ക വീതം കിട്ടി?

സമീറിന്റെ കൈയിലും 12 നെല്ലിക്കയാണുള്ളത്. അവൻ അത് തന്റെ 4 കൂട്ടുകാർക്ക് തുല്യമായി വീതിച്ചു നൽകി. ഓരോരുത്തർക്കും എത്ര നെല്ലിക്ക വീതം കിട്ടി?


12 നെല്ലിക്ക 3 കൂട്ടുകാർക്ക് തുല്യമായി വീതിച്ചു നൽകുന്നു. ഒരാൾക്ക് കിട്ടിയ നെല്ലിക്കയുടെ എണ്ണം സൂചിപ്പിക്കുന്ന ക്രിയ ഏത്?




- 12 + 3, 12 - 3, 12 × 3, 12 ÷ 3

ബിന്ദുവിന്റെ കൈയിൽ 16 പേരക്കയുണ്ട്. ഇതിൽ 4 എണ്ണം വീതം ഓരോ കൂട്ടുകാർക്കും നൽകി. എത്ര പേർക്കാണ് നൽകിയത്?

പ്രവർത്തനം - 4 കൂടുതലേത്?

സ്കൂളിലെ പ്രീ-പ്രൈമറി ക്ലാസ്സിലേയ്ക്കായി വാങ്ങിയ കളിപ്പാട്ടങ്ങൾക്ക് നമ്പരിടുകയാണ് ഭാഗ്യ.



| കളിപ്പാട്ടത്തിന്റെ തരം | കളിപ്പാട്ടത്തിലെ നമ്പറുകൾ | ആകെ എണ്ണം |
|---|---------------------------|-----------|
|  | | |
|  | | |
|  | | |

ഏതു കളിപ്പാട്ടമാണ് കൂടുതൽ ഉള്ളത്?

ബസിലെ നമ്പറുകൾ ചെറുതിൽ നിന്ന് വലുതിലേക്ക് ക്രമമായി എഴുതുക.

പ്രവർത്തനം -5 പായസം വയ്ക്കാം

സ്കൂൾ വാർഷികത്തിന് പായസം വയ്ക്കാൻ തീരുമാനിച്ചു.



പാചകക്കാരൻ കൊടുത്ത ലിസ്റ്റ് നോക്കൂ.



പാചകത്തിന് ആവശ്യമായ സാധനങ്ങൾ

- പച്ചരി - 20 കിലോഗ്രാം
- ശർക്കര - 12 കിലോഗ്രാം
- തേങ്ങ - 10 കിലോഗ്രാം
- അണ്ടിപ്പരിപ്പ് - 500 ഗ്രാം
- ഉണക്ക മുന്തിരി - 500 ഗ്രാം
- ഏലക്ക - 250 ഗ്രാം

പായസത്തിനാവശ്യമായ സാധനങ്ങളിൽ കുറച്ച് രക്ഷിതാക്കൾ നൽകി.

ഇനിയും സാധനങ്ങൾ വാങ്ങേണ്ടി വരുമോ?

പട്ടിക പൂർത്തിയാക്കുക

| പാചകത്തിന് ആവശ്യമായ സാധനങ്ങൾ | രക്ഷിതാക്കൾ നൽകിയത് | ഇനി വാങ്ങേണ്ടത് |
|------------------------------|---------------------|-----------------|
| പച്ചരി | 20 കിലോഗ്രാം | വാങ്ങേണ്ടതില്ല |
| ശർക്കര | 7 കിലോഗ്രാം | |
| തേങ്ങ | 5 കിലോ 500 ഗ്രാം | |
| അണ്ടിപ്പരിപ്പ് | 350 ഗ്രാം | |
| ഉണക്ക മുന്തിരി | 300 ഗ്രാം | |
| ഏലക്ക | ഇല്ല | |

പ്രവർത്തനം -6 സ്കൂൾ വാർഷികം

കാനൂർ എൽ.പി.സ്കൂളിൽ വാർഷികാഘോഷം നടക്കുന്നു. കുട്ടികളുടെ കലാപരിപാടികളുടെ സമയക്രമം കൊടുത്തിരിക്കുന്നു. സമയത്തിനനുസരിച്ച് സൂചികൾ ക്ലോക്കിൽ വരച്ചു ചേർക്കുക. വിട്ടുപോയ സമയം എഴുതിച്ചേർക്കുക.



കലാപരിപാടികളുടെ സമയം

കലാപരിപാടികൾ 9.30 ന് ആരംഭിച്ചു



നാടൻപാട്ട്

9.30



മിമിക്രി

10.15



നാടോടിനൃത്തം



അഭിനയഗാനം

11.25

കലാപരിപാടികൾ 12.15 ന് അവസാനിക്കും.

കലാപരിപാടികൾ പൂർത്തിയാക്കാൻ എത്ര സമയം എടുക്കുമെന്ന് എഴുതുക.

| | | |
|--|--|--|
| | | |
|--|--|--|