



1 മാർക്ക് വീതം

പ്രവർത്തനം - 1 - ഉത്തരം കണ്ടെത്താം

a. നീലഗിരി കുന്ദുകൾക്ക് ആ പേര് വരാൻ കാരണം .....സസ്യമാണ് ?

- A നീല അമരി
- B നീലക്കുറിഞ്ഞി
- C നീലത്താമര
- D നീല കോളാമ്പി

b. “വളഞ്ഞു നീണ്ട കൊക്കുകൾ, കുർത്ത നഖങ്ങൾ, അപാരമായ കാഴ്ചശക്തി” ഈ സവിശേഷതകൾ ആരുടെതാണ് ?

- A. കാക്ക
- B. പരുന്ത്
- C. കൊറ്റി
- D. തത്ത

c. ലോകത്തിലെ ഏറ്റവും വലിയ ജീവി?

- A. ആന
- B. പെരുമ്പാമ്പ്
- C. ജിറാഫ്
- D. നീലത്തിമിംഗലം

d. ഒറ്റയാനെ കണ്ടെത്തൂ..

- A. മാൻ
- B. പശു
- C. പാമ്പ്
- D. നായ

e. താഴെപ്പറയുന്നവയിൽ സസ്യാഹാരം മാത്രം കഴിക്കുന്ന ജീവി ഏത് ?

- A. തവള
- B. പല്ലി
- C. കീരി
- D. ആട്

പ്രവർത്തനം - 2 - തരം തിരിക്കാം

2 മാർക്ക്

a. താഴെ തന്ന സസ്യങ്ങളെ അവ നടുന്ന ഭാഗം അനുസരിച്ച് തരംതിരിക്കൂ.

ചീര, വെണ്ട, മുരിങ്ങ, ചേന, വാഴ, തേക്ക്, മരച്ചീനി, നിശാഗന്ധി, കറിവേപ്പ്, കടപ്പാവ്, തെങ്ങ്, നെല്ല്, തുളസി, പുള്ളി, മാവ്, ചെമ്പരത്തി, റോസ്, മത്തൻ, ഇലമുളച്ചി , കള്ളിമുൾചെടി

വിത്ത്	വേര്	കാണ്ഡം	ഇല


b. താഴെക്കൊടുത്തിരിക്കുന്ന വളർത്തു ജീവികളെ കൊണ്ടുള്ള

പ്രയോജനങ്ങൾ എഴുതുക ? 2 മാർക്ക്

താറാവ്	
പശു	





C. പുമ്പാറ്റയുടെ ജീവിതചക്രത്തിൽ വിട്ടുപോയ ഭാഗങ്ങൾ പൂരിപ്പിക്കുക

1 മാർക്ക്



പ്രവർത്തനം - 3 - ഞങ്ങളെ അറിയാമോ ?

5 മാർക്ക്

ജീവികൾ	സഞ്ചാര രീതി	ശരീരത്തിന്റെ സവിശേഷതകൾ
 തവള .....		
 .....		
 .....		
 .....		
		

പ്രവർത്തനം - 4 - സവിശേഷതകൾ എഴുതാം

5 മാർക്ക്

സവിശേഷതകൾക്കനുസരിച്ച് സസ്യങ്ങളെ തരംതിരിക്കുന്നതിനെപ്പറ്റി വാഴയും മാവും ചെമ്പരത്തിയും എന്തൊക്കെയാണ് പറഞ്ഞിരിക്കുക. ? ഓരോ വിഭാഗത്തിലും കുടുതൽ ഉദാഹരണങ്ങൾ എഴുതൂ...

 <p>മാവ്</p>	<p>ഞങ്ങളാണ് മരങ്ങൾ.....</p>
 <p>വാഴ</p>	<p>ഞങ്ങളാണ് ഓഷധികൾ.....</p>
 <p>ചെമ്പരത്തി</p>	<p>ഞങ്ങളാണ്.....</p>

പ്രവർത്തനം - 5 - ജലം ജീവാമൃതം

5 മാർക്ക്

ഓരോ തുള്ളി ജലവും അമൂല്യമാണ് എന്ന് നാം പഠിച്ചുവല്ലോ. എന്നാൽ ജലം പലവിധത്തിൽ മലിനമാക്കുകയും പാഴാക്കുകയും ചെയ്യുന്നവരുണ്ട് . അവരെ ബോധവൽക്കരിക്കുന്നതിനായി ഒരു പോസ്റ്റർ തയ്യാറാക്കൂ...

KPSTA PATTAMBI