



Class No. : .....

**FY 134**

Name : .....

**FIRST YEAR HIGHER SECONDARY SECOND TERMINAL  
EXAMINATION, DECEMBER 2024**

**Part – III  
HISTORY**

**Maximum : 80 Scores  
(Map Accompanied)**


**Time : 2½ Hours  
Cool-off Time : 15 Minutes**

**General Instructions to Candidates :**

- There is a 'Cool off time' of 15 minutes in addition to the writing time.
- Use of 'cool off time' to get familiar with questions and to plan your answers.
- Read questions carefully before answering.
- Calculations, figures and graphs should be shown in the answer sheet itself.
- Malayalam version of the questions is also provided.

**വിദ്യാർത്ഥികൾക്കുള്ള പൊതുനിർദ്ദേശങ്ങൾ :**

- നിർദ്ദിഷ്ട സമയത്തിന് പുറമെ 15 മിനിട്ട് 'കൂൾ ഓഫ് ടൈം' ഉണ്ടായിരിക്കും.
- 'കൂൾ ഓഫ് ടൈം' ചോദ്യങ്ങൾ പരിചയപ്പെടാനും ഉത്തരങ്ങൾ ആസൂത്രണം ചെയ്യാനും ഉപയോഗിക്കുക.
- ഉത്തരങ്ങൾ എഴുതുന്നതിന് മുമ്പ് ചോദ്യങ്ങൾ ശ്രദ്ധാപൂർവ്വം വായിക്കണം.
- കണക്ക് കൂട്ടലുകൾ, ചിത്രങ്ങൾ, ഗ്രാഫുകൾ, എന്നിവ ഉത്തരപേപ്പറിൽ തന്നെ ഉണ്ടായിരിക്കണം.
- ചോദ്യങ്ങൾ മലയാളത്തിലും നൽകിയിട്ടുണ്ട്.



1. 'എ' കോളത്തിന് അനുയോജ്യമായവ 'ബി' കോളത്തിൽ നിന്നും കണ്ടെത്തി എഴുതുക. (4×1=4)

എ	ബി
യാസ	പരിചാരകൾ
കൃതികൾതായ്	സൈന്യതലവന്മാർ
നോയൽ	നിയമസംഹിത
നൗകൾ	മുഖ്യൻമാരുടെ സഭ

2 മുതൽ 7 വരെയുള്ള ചോദ്യങ്ങളിൽ ഏതെങ്കിലും 4 എണ്ണത്തിന് ഉത്തരമെഴുതുക. 1 സ്കോർ വീതം. (4×1=4)

2. ആർട്ടാമിറ ഗൃഹാചിത്രം സ്ഥിതിചെയ്യുന്നത്

- A) ഫ്രാൻസ്
- B) ഇറാഖ്
- C) ബ്രൂയിൻ
- D) സിറിയ

3. 'ഹോമോ ഹബിലിസ്' എന്ന പദം സൂചിപ്പിക്കുന്നത്

- A) ദക്ഷിണദേശത്തെ ആൾക്കൂരങ്ങ്
- B) ഉപകരണ നിർമ്മാതാവ്
- C) ചിന്തിക്കുന്ന മനുഷ്യൻ
- D) നിവർന്ന മനുഷ്യൻ



4. മാരിയിലെ രാജാക്കന്മാർ

- A) അക്കാഡിയന്മാർ
- B) അസ്സീരിയന്മാർ
- C) അറാമയിന്മാർ
- D) അമോറൈറ്റുകൾ

5. മെസപ്പൊട്ടേമിയയിലെ സ്റ്റേഹത്തിന്റെയും യൂദ്ധത്തിന്റെയും ദേവത

- A) ഇന്ന
- B) ദാഗൻ
- C) മിനർവ
- D) ജൂണോ

6. ചുവടെ നൽകിയിരിക്കുന്നതിൽ ഇറാനിയൻ ഭരണാധികാരി ആര് ?

- A) അഗസ്റ്റസ്
- B) ഷാപൂർ ഒന്നാമൻ
- C) ടൈബീരിയസ്
- D) ഗല്ലിനസ്

7. റോമിലെ നാഗരിക കേന്ദ്രത്തെ കണ്ടെത്തുക.

- A) ഉർ
- B) ഉറൂക്ക്
- C) സൂസ
- D) കാർത്തേജ്

8. ചുവടെ തന്നിരിക്കുന്നവ കാലഗണന ക്രമത്തിലെഴുതുക.


(4×1=4)

- അബ്ബാസിക ഭരണം സ്ഥാപിക്കപ്പെട്ടു
- ഹിജ്റ വർഷത്തിന്റെ ആരംഭം
- ഒട്ടകയുദ്ധം
- ഉമവിയ്യ രാജവംശത്തിന്റെ രൂപീകരണം

9. തന്നിരിക്കുന്ന ലോകത്തിന്റെ രൂപരേഖയിൽ ചുവടെ നൽകിയിരിക്കുന്നവ അടയാളപ്പെടുത്തുക.

(4×1=4)

- ബ്യൂയിൻ
- കോൺസ്റ്റാന്റിനോപ്പിൾ
- സഹാറ മരുഭൂമി
- കാസ്പിയൻ കടൽ



Score

10 മുതൽ 18 വരെയുള്ള ചോദ്യങ്ങളിൽ ഏതെങ്കിലും 8 എണ്ണത്തിന് ഉത്തരമെഴുതുക.  
2 സ്കോർ വിതം.

(8×2=16)

10. ഹോമിനിഡുകളുടെ സവിശേഷതകൾ എഴുതുക.

11. ഹോമോയിലെ ഏതെങ്കിലും രണ്ട് വിഭാഗങ്ങളുടെ പേരെഴുതുക.

12. മെസോപ്പൊട്ടേമിയയിൽ നിലനിന്നിരുന്ന ഏതെങ്കിലും രണ്ടു തരത്തിലുള്ള നഗരങ്ങളെ സൂചിപ്പിക്കുക.

13. മെസോപ്പൊട്ടേമിയൻ എഴുത്തുവിദ്യയുടെ ഏതെങ്കിലും രണ്ടുപയോഗങ്ങൾ പട്ടികപ്പെടുത്തുക.

14. കാൽമേകാക്, ടെപ്പോച്ചക്ലി എന്നിവ തമ്മിലുള്ള വ്യത്യാസം എഴുതുക.

15. കൂരിശുയുദ്ധങ്ങളുടെ ഏതെങ്കിലും രണ്ട് സ്വാധീനങ്ങൾ വ്യക്തമാക്കുക.

16. ചെങ്കിസ്ഖാന്റെ കൊനിയൻ സംവിധാനത്തിന്റെ സവിശേഷതകൾ എഴുതുക.

17. ഗിൽഡ് എന്നാൽ എന്തെന്ന് നിർവചിക്കുക.

18. പ്രൊട്ടസ്റ്റന്റ് മതനവീകരണത്തിന്റെ ഏതെങ്കിലും രണ്ട് നേതാക്കളുടെ പേരെഴുതുക.



Score

19 മുതൽ 21 വരെയുള്ള ചോദ്യങ്ങളിൽ ഏതെങ്കിലും 2 എണ്ണത്തിന് ഉത്തരമെഴുതുക.  
3 സ്കോർ വീതം.

(2×3=6)

19. പകരം വയ്ക്കൽ മാതൃകയും പ്രാദേശിക തൃടർച്ചാമാതൃകയും തമ്മിലുള്ള വ്യത്യാസങ്ങൾ എഴുതുക.

20. അബദ് അൽ-മാലിക് നടപ്പിലാക്കിയ പരിഷ്കാരങ്ങൾ പട്ടികപ്പെടുത്തുക.

21. വാസ്തുശില്പകലയുടെ മേഖലയിൽ മൈക്കലാഞ്ചലോയുടെ സംഭാവനകൾ വ്യക്തമാക്കുക.

22 മുതൽ 26 വരെയുള്ള ചോദ്യങ്ങളിൽ ഏതെങ്കിലും 4 എണ്ണത്തിന് ഉത്തരമെഴുതുക.  
4 സ്കോർ വീതം.

(4×4=16)


22. ഹോമോയും ആന്ത്രോപിത്തേക്കിനും തമ്മിലുള്ള വ്യത്യാസങ്ങൾ വ്യക്തമാക്കുക.

23. മെസൊപ്പൊട്ടേമിയയുടെ ഭൂമിശാസ്ത്ര സവിശേഷതകൾ പരിശോധിക്കുക.

24. ചെങ്കിസ്ഖാന്റെ ജീവിതത്തെക്കുറിച്ച് ഒരു കുറിപ്പ് എഴുതുക.

25. യൂറോപ്പിലെ പതിനാലാം നൂറ്റാണ്ടിലെ പ്രതിസന്ധിയെ സൂചിപ്പിക്കുക.

26. നവോത്ഥാന കാലഘട്ടത്തിൽ മാനവിക ആശയങ്ങൾ സ്ത്രീകളുടെമേൽ ചെലുത്തിയ സ്വാധീനം വിലയിരുത്തുക.



27 മുതൽ 29 വരെയുള്ള ചോദ്യങ്ങളിൽ ഏതെങ്കിലും 2 എണ്ണത്തിന് ഉത്തരമെഴുതുക.  
5 സ്കോർ വീതം. (2×5=10)

27. കാലഗണന, ഗണിതശാസ്ത്രം എന്നീ മേഖലകളിൽ മെസൊപ്പൊട്ടേമിയൻ ജനതയുടെ സംഭാവനകൾ വ്യക്തമാക്കുക.

28. റോമാസാമ്രാജ്യത്തിൽ നിലനിന്നിരുന്ന സാമൂഹ്യ ചട്ടങ്ങളെ പട്ടികപ്പെടുത്തുക.

29. കോപ്പർനിക്കൻ വിപ്ലവത്തെക്കുറിച്ച് ഒരു കുറിപ്പ് തയ്യാറാക്കുക.

30 മുതൽ 32 വരെയുള്ള ചോദ്യങ്ങളിൽ ഏതെങ്കിലും 2 എണ്ണത്തിന് ഉത്തരമെഴുതുക.  
8 സ്കോർ വീതം. (2×8=16)

30. അറിവിന്റെയും സംസ്കാരത്തിന്റെയും മേഖലകളിൽ ഇസ്ലാമിന്റെ സംഭാവനകൾ വിശകലനം ചെയ്യുക.

സൂചനകൾ :

- സൂഫിസം
- സാഹിത്യം
- തത്വശാസ്ത്രം

31. ചുവടെ നൽകിയിരിക്കുന്ന സൂചനകളുടെ അടിസ്ഥാനത്തിൽ റോമാസാമ്രാജ്യത്തെക്കുറിച്ച് ഒരു ഉപന്യാസം തയ്യാറാക്കുക.

- സാമ്പത്തിക വിപുലീകരണം
- തൊഴിലാളികളെ നിയന്ത്രിക്കൽ

32. ഫ്യൂഡലിസത്തിലെ മൂന്നു വിഭാഗങ്ങളുടെ സവിശേഷതകൾ വിശദമാക്കുക.

പരിഗണിക്കേണ്ട മേഖലകൾ :

- പുരോഹിതർ
- പ്രഭുവർഗ്ഗം
- കർഷകർ