

**KERALA SCHOOL TEACHERS UNION STATE COMMITTEE
KSTU CM KIDS L.S.S MODEL EXAMINATION-2026****(Paper-II) / (പേപ്പർ -2)**

രജിസ്റ്റർ നമ്പർ

അക്കത്തിൽ

അക്ഷരത്തിൽ

സമയം : 2 മണിക്കൂർ

ആകെ സ്കോർ : 30

CM KIDS L.S.S. MODEL EXAMINATION-2026
സി.എം കിഡ്സ് എൽ.എസ്.എസ്. മാതൃകാ പരീക്ഷ- 2026
(Paper-II) / (പേപ്പർ -2)

--

ഓഫീസ് ഉപയോഗത്തിന് വേണ്ടി (For office use only)

പൊതുനിർദ്ദേശങ്ങൾ / General Instructions:

- 01:30pm മുതൽ 03:30 pm വരെയാണ് പരീക്ഷാ സമയം. The time of examination is from 01:30 p.m. to 03:30 p.m.
- ആദ്യത്തെ 15 മിനിറ്റ് സമാശ്വാസ സമയമാണ്. ചോദ്യങ്ങൾ വായിച്ച് മനസ്സിലാക്കുന്നതിന് ഈ സമയം ഉപയോഗപ്പെടുത്തേണ്ടതാണ്. The first 15 minutes will be cool-off time. This time should be used for reading the questions carefully.
- പേപ്പർ രണ്ടിലെ ചോദ്യങ്ങൾ നാല് ഭാഗങ്ങളായി ഉൾപ്പെടുത്തിയിരിക്കുന്നു. പാർട്ട് - എ (മലയാളം), പാർട്ട് - ബി (ഇംഗ്ലീഷ്), പാർട്ട്-സി(ഗണിതശാസ്ത്രം) പാർട്ട് -ഡി - (പരിസ്ഥിതിശാസ്ത്രം). Paper-II includes 4 parts. Part - A (Malayalam) Part B (English) Part C (Mathematics) Part D (Environmental Science).
- എല്ലാ ചോദ്യങ്ങൾക്കും ചോദ്യപേപ്പറിൽ നൽകിയിരിക്കുന്ന സ്ഥലത്ത് ഉത്തരമെഴുതേണ്ടതാണ്. Answer all the questions in the space provided in the question paper.
- ചോദ്യങ്ങൾ മലയാളം / ഇംഗ്ലീഷ് മാധ്യമങ്ങളിലായി ഉണ്ട്. വിദ്യാർത്ഥികൾ തങ്ങളുടെ മീഡിയത്തിലെ പേജിൽ ഉത്തരം എഴുതേണ്ടതാണ്. Questions are available in Malayalam/English medium. Students should write the answers on the page of their respective മീഡിയം.
- ബുക്കിൽ ഏതെങ്കിലും വിധത്തിലുള്ള വ്യക്തിവിവരങ്ങളോ, അടയാളങ്ങളോ രേഖപ്പെടുത്താൻ പാടില്ല. Identification marks or any other marks of such kind should not be written on the booklet.
- ബുക്ക് ഇൻവിജിലേറ്ററെ ഏൽപ്പിച്ചതിനുശേഷം മാത്രമേ പരീക്ഷ ഹാൾ വിട്ട് പുറത്ത് പോകാൻ പാടുള്ളൂ. Candidates should handover the booklet to the invigilator before leaving the examination.

മലയാളം

$$\text{സ്കോർ } 2 \times 5 = 10$$

1. ഓണാഘോഷത്തിന്റെ ഭാഗമായി സ്കൂളിൽ വടംവലി മത്സരം നടക്കുകയാണ് . ഇതിന്റെ ദൃശ്യാക്ഷി വിവരണം തയ്യാറാക്കുക.

2. നൂല് പൊട്ടി എങ്ങോട്ടെന്നില്ലാതെ പറന്നു പൊങ്ങിയ പട്ടുസിനെ മേടക്കാറ്റിനൊപ്പം സൂരക്ഷിതമായി ആബിദക്കുട്ടിയുടെ വീട്ടിലേക്കയച്ച അമ്പിളിമാമനെ ഓർക്കുന്നില്ലേ ? പട്ടുസിനെ തിരിച്ചുകിട്ടിയ സന്തോഷത്തിൽ ആബിദക്കുട്ടി അമ്പിളിമാമന് ഒരു കത്തയച്ചു . അത് എങ്ങനെയായിരിക്കും? ഒന്നെഴുതി നോക്കൂ .

ENGLISH

Score 1x 5=5

3. The differently abled girl Chithra from R.H.M School Ernakulam North was awarded for her famous article THE KINDNESS in the national level. The school authority was decided to conduct a special programme to honour the student on 2nd February 2026 at 11 am at the School Auditorium in the presence of Honourable Minister for Education.

Prepare a notice for the programme.

Maths

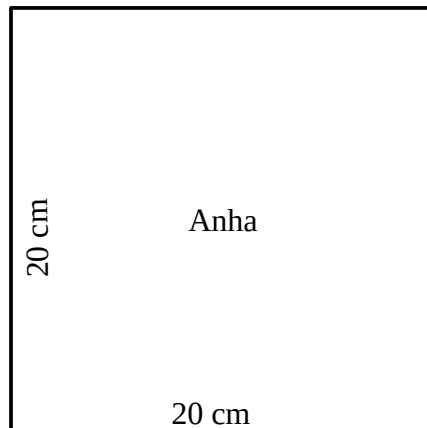
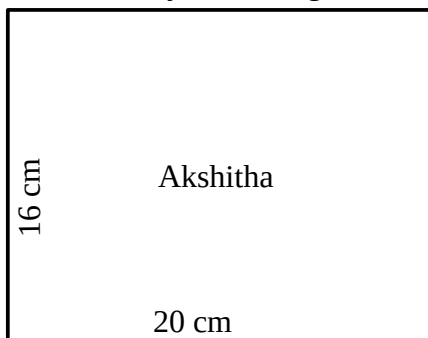
Score 2x 5=10

4. Erumely Panchayat sanctioned ₹30,000 to each school for purchasing furniture. Chenappady Government LP School bought 18 chairs at ₹865 each, 9 tables at ₹1600 each, and 8 stools at ₹1400 each.
- a) What is the total amount spent by Chenappady Government LP School on furniture?

b) Was the amount sanctioned by the Panchayat sufficient to buy the furniture? If not, how much more money should be taken from the school PTA?


c) If 10 more stools are to be bought for the school, how much additional money needs to be paid?

5. Akshitha and Anha are making models of houses using rectangular cards. The dimensions of the cards they have are given below:



a) What will be the perimeter of the largest square card that can be cut out from Akshitha's card?

b) Anha divided her card into two equal parts. She decided to paste a color paper strip around one of those parts. What is the length of the color paper strip required?



c) How many square cards with a side of 4 cm each can be cut out from Akshitha's rectangular card?



EVS

Score 1x 5=5

6. Task: Using the necessary items from the list below, prepare an experiment report to prove that air has weight.

Seeds, paper, a small stick, thread, bucket, paper glass, balloons, whistle.

