

ക്ലാസ്: 2

സമയം: ഒരു ദിവസം

കുട്ടിയുടെ പേര്:
വിദ്യാലയത്തിന്റെ പേര്:
ഡിവിഷൻ:
ടീച്ചറുടെ ഒപ്പ്:
രക്ഷിതാവിന്റെ ഒപ്പ്:

ക്രമ നം.	പ്രവർത്തനങ്ങൾ	ഗ്രേഡ്
1	ചിത്രങ്ങൾ വരയ്ക്കൽ	
2	കടയിൽ പോകാം	
3	സമയം	
4	സംഖ്യകളെ കണ്ടെത്താം	
5	എണ്ണനെയൊക്കെ എഴുതാം	
ഓവറോൾ ഗ്രേഡ്		

പ്രവർത്തനം 1 ചിത്രങ്ങളെത്ര?

ഗ്രേഡ്

അപ്പുവും കുട്ടുകാരും മൈതാനത്ത് കുറച്ച് സൈക്കിളുകൾ കണ്ടു.



• സൈക്കിളുകളുടെ എണ്ണം എത്ര?

• സൈക്കിളുകളുടെ ആകെ ചക്രങ്ങൾ എത്ര?

X =

• മൈതാനത്ത് 3 സൈക്കിൾ കൂടി വന്നു. എങ്കിൽ ആകെ എത്ര ചക്രങ്ങൾ ഉണ്ടാകും?

പ്രവർത്തനം 2 കടയിൽ പോകാം

അനൂവും സോനൂവും കടയിൽ പോയി. വിലവിവരപ്പട്ടിക നോക്കി.

വിലവിവരപ്പട്ടിക



ഇനം	വില
നോട്ടുബുക്ക്	30 രൂപ
പെൻസിൽ	10 രൂപ
കളറിംഗ് ബുക്ക്	40 രൂപ
പെൻസിൽബോക്സ്	35 രൂപ
വാട്ടർ ബോട്ടിൽ	70 രൂപ
വാട്ടർ കളർ	60 രൂപ

- പെൻസിൽ ബോക്സും വാട്ടർ ബോട്ടിലും വാങ്ങണമെങ്കിൽ എത്ര രൂപ വേണം?

- പെൻസിലിന്റെ വിലയേക്കാൾ എത്ര കുടുതലാണ് പെൻസിൽ ബോക്സിന്റെ വില?

- അനു 5 പെൻസിൽ വാങ്ങി. എത്ര രൂപ കൊടുക്കണം?


- സോനൂ 100 രൂപ മുഴുവനായും ചെലവഴിച്ച് 2 സാധനങ്ങൾ വാങ്ങി. അവ ഏതൊക്കെയാവാം?

സാധനം	വില

പ്രവർത്തനം 3 സമയം


മേൽപ്പറഞ്ഞ സമയം നോക്കി


- ക്ലോക്കിലെ സമയം എഴുതുക.





- ക്ലോക്കിൽ സമയം അടയാളപ്പെടുത്തുക.





- അനു ഞായറാഴ്ച രാവിലെ 9 മണിക്ക് സോനുവിന്റെ വീട്ടിൽ കളിക്കാൻ പോയി. കളി കഴിഞ്ഞ് വീട്ടിലെത്താൻ 2 മണിക്കൂർ സമയമെടുത്തു. എത്ര മണിക്കാണ് അനു വീട്ടിലെത്തിയത്?

പ്രവർത്തനം 4 സംഖ്യകൾ കണ്ടെത്താം

ശ്രേയ്

കളങ്ങളിൽ വിട്ടുപോയ സംഖ്യകൾ എഴുതുക.


	182		184	185
186		188		190
	192		194	195
196		198	199	

• 196 നും 198 നും ഇടയിലുള്ള സംഖ്യ

• 181 ന് തൊട്ടുമുമ്പുള്ള സംഖ്യ

• തന്നിരിക്കുന്ന സംഖ്യകളെ വലുതിൽ നിന്ന് ചെറുതിലേക്ക് എഴുതുക.

--	--	--	--	--	--



പ്രവർത്തനം 5 എങ്ങനെയാക്കി എഴുതാം?

ശ്രേയ്

